

# ԱՇԽԱՐՀԱԳՐՈՒԹՅՈՒՆ

## ԹԵՄՏ 2

1

Երկիր մոլորակի բնությունը, բնակչությունը և տնտեսությունն ուսումնասիրող գիտությունն է.

- 1) աշխարհագրությունը
- 2) քարտեզագրությունը
- 3) տնտեսագիտությունը
- 4) էկոլոգիան

2

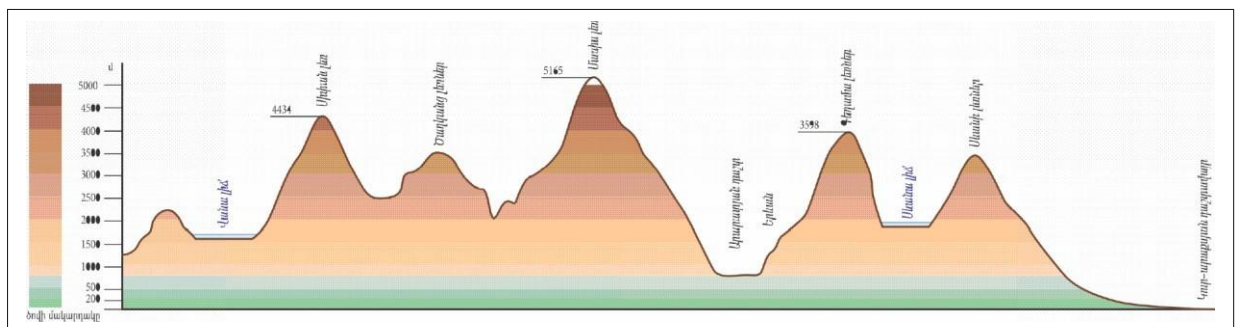
Անցյալում աշխարհագրությունը գլխավորապես զբաղվել է.

- 1) երևույթների բացատրություններով
- 2) երևույթների պատճառները պարզելով
- 3) երևույթների հետևանքները կանխատեսելով
- 4) հայտնագործություններով և աշխարհի նկարագրությամբ

3

Նկար 1- ում պատկերված է.

- 1) հորիզոնական
- 2) ռելիեֆի կտրվածք՝ պրոֆիլ
- 3) լեռնագիծ
- 4) համադրման սանդղակ



նկար 1

4

Ի՞նչ աշխարհահամակարգ է տափաստանը.

- 1) բնական
- 2) բնահասարակական
- 3) հասարակական
- 4) տնտեսական

5

Հասարակական աշխարհագրության ճյուղերից է.

- 1) հողերի աշխարհագրությունը
- 2) բույսերի աշխարհագրությունը
- 3) կլիմայագիտությունը
- 4) սոցիալական աշխարհագրությունը

6

1 : 900 000 մասշտաբի քարտեզում երկու կետերի հեռավորությունը 4 սմ է: Դրանց իրական հեռավորությունը կլինի.

- 1) 36 կմ
- 2) 360 կմ
- 3) 3600 կմ
- 4) 3,6 կմ

7

Առաջին շուրջերկրյա ճանապարհորդությունը կատարվել է.

- 1) 1492–1496 թթ.
- 2) 1497–1498 թթ.
- 3) 1519–1521 թթ.
- 4) 1819–1820 թթ

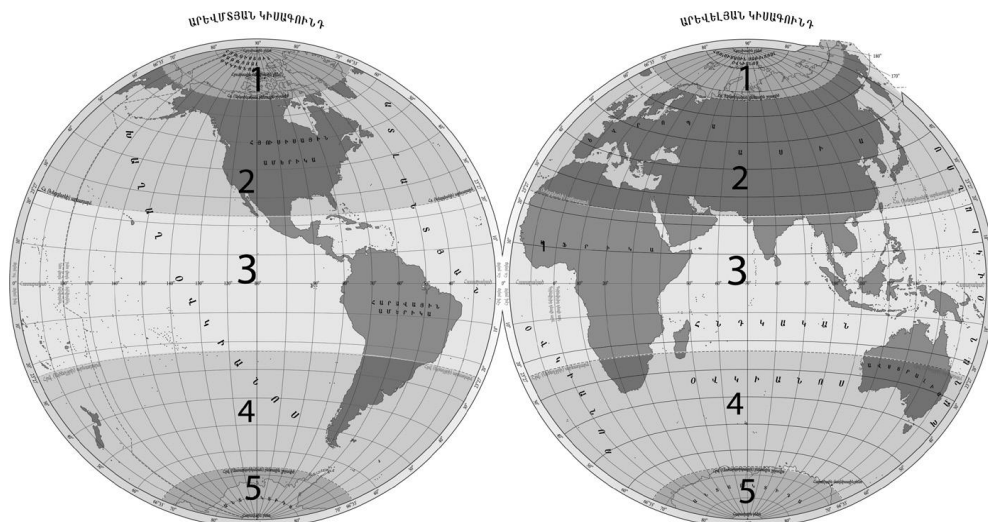
8

Ո՞ր պնդումն է ճիշտ.

- 1) Որքան փոքրանում է քարտեզի մասշտաբը, այնքան մեծանում են մանրամասները և ընդգրկվող տարածքը:
- 2) Որքան փոքրանում է քարտեզի մասշտաբը, այնքան մեծանում են մանրամասները, և փոքրանում է ընդգրկվող տարածքը:
- 3) Որքան փոքրանում է քարտեզի մասշտաբը, այնքան փոքրանում են մանրամասները և ընդգրկվող տարածքը:
- 4) Որքան փոքրանում է քարտեզի մասշտաբը, այնքան փոքրանում են մանրամասները, և մեծանում է ընդգրկվող տարածքը:

9

Նկար 2 – ում ո՞ր թվով է նշված հարավային բարեխառն ջերմային գոտին:



նկար 2

- 1) 2
- 2) 3
- 3) 4
- 4) 1

10

Նշվածներից ո՞րը Երկրի գնդաձևության ապացույց չէ.

- 1) Հյուսիսից հարավ կամ հակառակ ուղղությամբ շարժվելիս աստղային երկնքի տեսքը փոխվում է:
- 2) Լեռները բարձրանալիս բնական համալիրները հերթափոխում են միմյանց:
- 3) Լուսնի խավարումների ժամանակ Երկրի ստվերը նրա վրա կլոր է երևում:
- 4) Լեռները բարձրանալիս տեսանելի հորիզոնն ընդարձակվում է:

11

Գետի լայնակի կտրվածքի մակերեսը  $15 \text{ մ}^2$  է, ջրի արագությունը՝  $2 \text{ մ/վ}$ : Որքա՞ն է գետի ջրի ծախսը:

- 1)  $30 \text{ մ}^3/\text{վ}$
- 2)  $9,5 \text{ մ}^3/\text{վ}$
- 3)  $45 \text{ մ}^3/\text{վ}$
- 4)  $7,5 \text{ մ}^3/\text{վ}$

12

Ո՞ր պնդումն է ճիշտ.

- 1) Հասարակածում ցերեկվա տևողությունը ամենաերկարը հունիսի 22–ին է:
- 2) Հասարակածում ցերեկվա տևողությունը ամենաերկարը դեկտեմբերի 22–ին է:
- 3) Հասարակածում ցերեկվա տևողությունը ամենաերկարը մարտի 21–ին և սեպտեմբերի 23–ին է:
- 4) Հասարակածում ամբողջ տարվա ընթացքում գիշերն ու ցերեկն իրար հավասար են

13

Ո՞ր պնդումն է ճիշտ:

Երկրի ներքին ուժերի հետ են կապված.

- 1) տորնադոյի և ցիկլոնի առաջացումը
- 2) ցունամիի և ցիկլոնի առաջացումը
- 3) երկրաշարժի և տորնադոյի առաջացումը
- 4) երկրաշարժի և ցունամիի առաջացումը

14

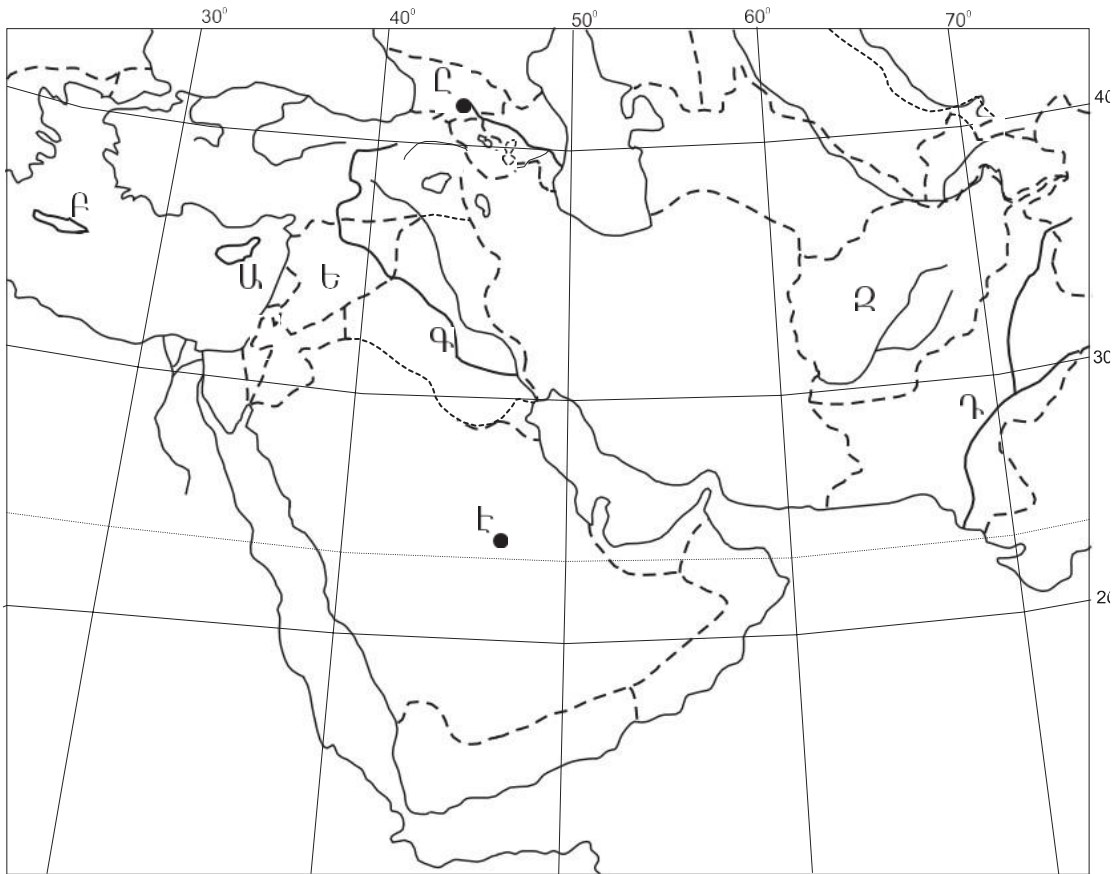
Նշված մայրցամաքներից որի՞ ամենաբարձր գագաթն է հրաբուխ.

- 1) Ավստրալիա
- 2) Աֆրիկա
- 3) Անտարկտիդա
- 4) Եվրասիա

15

Քարտեզի պայմանական նշանների հատվածում տեղադրվում է բացարձակ բարձրությունները ցույց տվող գույների ցուցակ, որը կոչվում է.

- 1) լեգենդա
- 2) ռելիեֆ
- 3) ռելիեֆի կտրվածք
- 4) բարձրությունների և խորությունների սանդղակ



քարտեզ 1

16 Քարտեզ 1-ում  $n^{\circ}$  ը կղզին է նշված Ա տառով:

- 1) Միցիլիա
- 2) Կիպրոս
- 3) Սարդինիա
- 4) Կրետե

17 Քարտեզ 1-ում  $n^{\circ}$  ը գետն է նշված Դ տառով:

- 1) Ճորոխ
- 2) Տիգրիս
- 3) Եփրատ
- 4) Ինդոս

**18** Ուրալյան լեռներով բաժանվում են.

- 1) Արևելաեվրոպական հարթավայրը և Միջին Սիբիրական սարահարթը
- 2) Արևելաեվրոպական և Արևմտասիբիրական հարթավայրերը
- 3) Արևմտասիբիրական հարթավայրը և Միջին Սիբիրական սարահարթը
- 4) Արևելաեվրոպական հարթավայրը և Կոլխիդա

**19** Հարավային Ամերիկայի հարթավայրեր են.

- 1) Միջագետքի դաշտավայրը և Արաբական սարահարթը
- 2) Կոլումբիական սարահարթը և Մեծ հարթավայրերը
- 3) Միսիսիպիի և Մերձատլանտյան դաշտավայրերը
- 4) Օրինոկոյի և Լա Պլատայի դաշտավայրերը

**20** Հյուսիսային Ամերիկայի վերաբերյալ ո՞ր պնդումն է ճիշտ.

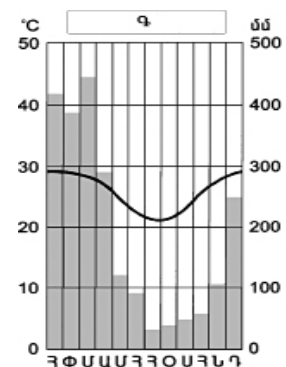
- 1) Տարածվում է հյուսիսային մերձարևադարձային գոտուց մինչև մերձարկտիկական գոտի:
- 2) Բարեխառն գոտու ներքին շրջաններում կլիման ծովային է:
- 3) Մայրցամաքի հարավային շրջաններում հաճախ ձևավորվում են ուժեղ մրրկահողմեր, որոնց այդտեղ անվանում են տորնադո:
- 4) Ձմռանը մայրցամաքի կենտրոնական մասում ձևավորվում է բարձր ճնշման մարզ:

**21** Աֆրիկայի վերաբերյալ ո՞ր պնդումն է ճիշտ.

- 1) Մայրցամաքի ծայր հյուսիսային և հարավային շրջանները մերձարևադարձային գոտիներում են:
- 2) Հասարակածային կլիմայական գոտում ջերմաստիճանների տատանումների տարեկան լայնույթը ընդամենը  $10^{\circ}-12^{\circ}$  է:
- 3) Ձմռանը մերձարևադարձային գոտիներում տիրապետում են արևադարձային օդային զանգվածները:
- 4) Հասարակածային կլիմայական գոտում տեղումներն առավելապես թափվում են ձմռանը

**22** Ո՞ր կլիմայական գոտում է գտնվում Գ բնակավայրը՝ ըստ նկար 3-ի:

- 1) հարավային մերձհասարակածային
- 2) հյուսիսային բարեխառն
- 3) հարավային մերձարևադարձային
- 4) հասարակածային



նկար 3

23

**Բնութագրումով որոշել մայրցամաքը.**

*Ուշ հայտնաբերված մայրցամաք է: Ափերը ողողում են երեք օվկիանոսների ջրեր: Ամբողջովին հարավային կիսագնդում է: Ո՞ր մայրցամաքն է.*

- 1) Հարավային Ամերիկա
- 2) Հյուսիսային Ամերիկա
- 3) Ավստրալիա
- 4) Անտարկտիդա

24

**Քաղաքական քարտեզի ձևավորման նորագույն ժամանակաշրջանի առաջին փուլի կարևոր իրադարձությունն չէ.**

- 1) ԽՍՀՄ-ի կազմավորումը
- 2) Ավստրո-Հունգարիայի փլուզումը
- 3) Օսմանյան կայսրության փլուզումը
- 4) ԱՄՆ-ի կազմավորումը

25

**Ո՞ր երկրի տարածքը երկու աշխարհամասերում չէ.**

- 1) Թուրքիայի
- 2) Ռուսաստանի
- 3) Ղազախստանի
- 4) Իրանի

26

**Ո՞ր շարքում են պետությունները դասավորված ըստ տարածքի մակերեսի նվազման հաջորդականության.**

1. Ռուսաստան 2. Չինաստան 3. ԱՄՆ 4. Կանադա

- 1) 1, 2, 3, 4
- 2) 1, 4, 2, 3
- 3) 1, 3, 4, 2
- 4) 1, 4, 3, 2

27

**Ո՞ր պնդումն է ճիշտ.**

- 1) Երկրագնդի բնակչության ընդամենը մի փոքր մասն է ապրում Արևելյան և Հարավային Ասիայում:
- 2) Բնակչության խտությունը տեղանքի բացարձակ բարձրության մեծացմանը զուգընթաց ավելանում է:
- 3) Բնակչության տեղաբաշխման օրինաչափություններից է նրա խտության աճը ծովերից կամ օվկիանոսներից հեռանալուն զուգընթաց:
- 4) Զարգացած վերամշակող արդյունաբերություն ունեցող տարածքներին բնորոշ է բնակչության մեծ խտությունը

28

**Բնակչության սեռատարիքային կառուցվածքում տղամարդկանց բաժինը մեծ է.**

- 1) Ֆրանսիայում և Նորվեգիայում
- 2) Լեհաստանում և Բելառուսում
- 3) Հնդկաստանում և Չինաստանում
- 4) Ռուսաստանում և Ուկրաինայում

29

**Էներգետիկական հաշվեկշռում աեկերի առավել մեծ բաժին ունեն.**

- 1) Ֆրանսիան և Ճապոնիան
- 2) Ավստրալիան և Կանադան
- 3) Ռուսաստանը և Չինաստանը
- 4) Հնդկաստանը և Իրանը

30

**Ո՞րն է Բելգիայի մայրաքաղաքը:**

- 1) Բրատիսլավա
- 2) Բրյուսել
- 3) Բանգկոկ
- 4) Գվատեմալա

31

**Ո՞ր գետը չի հոսում Ֆրանսիայի տարածքով:**

- 1) Ռոնը
- 2) Սենը
- 3) Թեմզա
- 4) Լուարը

32

**Մեծ Բրիտանիայի վերաբերյալ ո՞ր պնդումն է սխալ.**

- 1) Բարձր է բնակչության խտությունը:
- 2) Բնակչության կազմում մեծ է աշխատունակ բնակչության բաժինը:
- 3) Բնակչության բնական աճի ցուցանիշը ցածր է:
- 4) Ցածր է ուրբանիզացման մակարդակը:

33

**Իրանի վերաբերյալ ո՞ր պնդումն է ճիշտ.**

- 1) Երկրի պողպատաձուլության խոշոր կենտրոններն են Մաշհադը և Ղումը:
- 2) Գյուղատնտեսության առաջատար ճյուղն անասնապահությունն է:
- 3) Նավթի արտահանման խոշոր նավահանգիստներն են Թավրիզը և Թեհրանը:
- 4) Անդրիրանական երկաթուղային մայրուղին երկիրը հատում է հյուսիսից հարավ:

34

**Ո՞ր երկրում է գտնվում աշխարհի ամենահզոր աեկը.**

- 1) ԱՄՆ
- 2) Ֆրանսիա
- 3) Ռուսաստան
- 4) Ճապոնիա



35

Ո՞ր երկիրն անմիջական ելք չունի դեպի Բալթիկ ծով

- 1) Լեհաստան
- 2) Նիդերլանդներ
- 3) Ֆինլանդիա
- 4) Գերմանիա

36

Երկաթաքար արդյունահանող առաջատար երկիր է.

- 1) Բանգլադեշը
- 2) Բոլիվիան
- 3) Բելգիան
- 4) Բրազիլիան

37

Բացարձակ միապետություններ են.

- 1) Սաուդյան Արաբիան և Օմանը
- 2) Մեծ Բրիտանիան և Քուվեյթը
- 3) Ճապոնիան և Նորվեգիան
- 4) Լիբանանը և Հորդանանը

38

Բնակչության թվաքանակով Եվրոպայում ամենամեծն է.

- 1) Իտալիան
- 2) Ֆրանսիան
- 3) Մեծ Բրիտանիան
- 4) Գերմանիան

39

ԱՄՆ-ի խոշորագույն քաղաք Նյու Յորքը տեղակայված է երկրի.

- 1) հյուսիս-արևելքում
- 2) հարավում
- 3) կենտրոնում
- 4) արևմուտքում

40

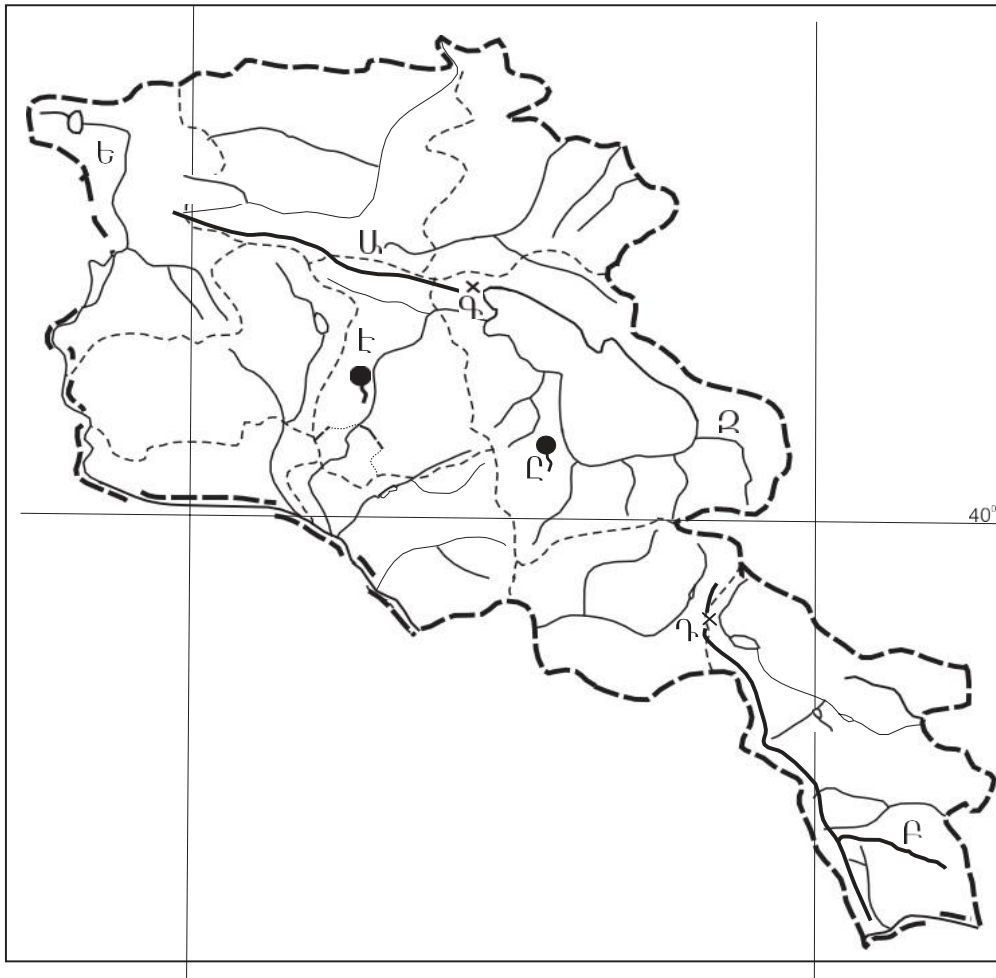
Ո՞ր լեզուն է առավել տարածված Լատինական Ամերիկայում.

- 1) անգլերենը
- 2) իսպաներենը
- 3) պորտուգալերենը
- 4) ֆրանսերենը

41

«Լեռնաշղթա — լեռնագագաթ» գույգերից ընտրել սխալը.

- 1) Գուգարաց — Չաթին լեռ
- 2) Մռավի — Գոմշասար
- 3) Ծաղկունյաց — Թեղենիս
- 4) Արցախի (Ղարաբաղի) — Քաշաթաղ



քարտեզ 2

42

Քարտեզ 2-ում  $n^{\circ}$  ը լեռնաշղթան է նշված Ա տառով:

- 1) Զանգեզուրի
- 2) Մեղրու
- 3) Բարգուշատի
- 4) Փամփակի

43

Քարտեզ 2-ում  $n^{\circ}$  ը լեռնանցքն է նշված Գ տառով:

- 1) Որոտանի
- 2) Վարդենյաց
- 3) Քաջարանի
- 4) Սևանի

44

**Ո՞ր շարքում են ծալքաբեկորավոր ծագում ունեցող լեռնագագաթները.**

- 1) Քաջքար, Սուկավետ, Ջիլո
- 2) Սրմանց, Սիփան, Սիս
- 3) Աժդահակ, Արագած, Արուլ
- 4) Թոնդրակ, Ծղուկ, Աչքասար

45

**Մերձալպյան և ալպյան մարգագետիններում մեծ տարածում ունեն.**

- 1) փետրախոտը, շուղախոտը, կորնգանը
- 2) գայլաթաթը, երեքնուկը, անմոռուկը
- 3) մասրենին, գազը, աբեղախոտը
- 4) օշինդրը, աղածաղիկը, ուղտափուշը

46

**Ո՞րն է ՀՀ վերընթաց լանդշաֆտային գոտիների վարից վեր հերթափոխության ճիշտ շարքը.**

- 1) անապատակիսաանապատային, լեռնատափաստանային, մերձալպյան ու ալպյան, ձյունամերձ
- 2) անապատակիսաանապատային, մերձալպյան ու ալպյան, լեռնատափաստանային, ձյունամերձ
- 3) լեռնատափաստանային, անապատակիսաանապատային, մերձալպյան ու ալպյան, ձյունամերձ
- 4) անապատակիսաանապատային, լեռնատափաստանային, ձյունամերձ, մերձալպյան ու ալպյան

47

**Սյունիքի մարզի մասնագիտացման ճյուղերից չէ.**

- 1) գունավոր մետաղաձուլությունը
- 2) հանքային ջրերի արտադրությունը
- 3) էլեկտրաէներգետիկան
- 4) մերձարևադարձային պտղաբուծությունը

48

**ՀՀ արդյունաբերության առաջատար ճյուղ չէ.**

- 1) գունավոր մետաղաձուլությունը
- 2) էլեկտրաէներգետիկան
- 3) ավտոմոբիլաշինությունը
- 4) շինանյութերի արդյունաբերությունը

49

**Հայաստանի թեթև արդյունաբերության զարգացմանն առավել նպաստել է.**

- 1) որակյալ աշխատանքային ռեսուրսների առկայությունը
- 2) ցեմենտի արտադրության զարգացումը
- 3) Սևան–Հրազդան կասկադի առկայությունը
- 4) խոշոր քաղաքների առկայությունը

50

**ՀՀ արդյունաբերության վերաբերյալ n<sup>o</sup> թ պնդումն է ճիշտ.**

- 1) ՀՀ մեքենաշինության տեղաբաշխումն ամբողջությամբ համընկնում է գունավոր մետաղաձուլության տեղաբաշխման հետ:
- 2) ՀՀ էլեկտրակայանների հզորության կառուցվածքում առավել մեծ բաժին ունեն ջեկերը:
- 3) Քիմիական արդյունաբերության խոշոր կենտրոններ են Արմավիր և Գյումրի քաղաքները:
- 4) Ալյումինի արդյունաբերության կենտրոնը Վանաձորն է

51

**Էլեկտրաէներգիայի ստացման ոչ ավանդական աղբյուրներ են.**

- 1) նավթը և գազը
- 2) մակընթացությունը և քամին
- 3) քարածուխը և այրվող թերթաքարը
- 4) ջուրը և ուրանը

52

**Քարածխի պաշարներով հարուստ երկրներ են.**

- 1) Վրաստանը և Ադրբեջանը
- 2) Վենեսուելան և Սաուդյան Արաբիան
- 3) Չինաստանը և Լեհաստանը
- 4) Իրանը և Ճապոնիզն

53

**Ընդերքի ռեսուրսների պահպանմանն ուղղված միջոցառում է.**

- 1) հողաբարելավումը
- 2) Համաշխարհային օվկիանոսի յուրացումը
- 3) հատուկ պահպանվող տարածքների առանձնացումը
- 4) հանքային հումքի համալիր օգտագործումը

54

**Ո՞ր պնդումն է ճիշտ.**

- 1) Օդում մեծ քանակությամբ փոշու առկայության պատճառով խոշոր քաղաքներում օդի ջերմաստիճանն ավելի ցածր է, քան դրանցից դուրս:
- 2) Ջերմոցային էֆեկտը պայմանավորված է մթնոլորտում ջրային գոլորշու և ածխաթթու գազի քանակի ավելացմամբ:
- 3) Օզոնային շերտի քայքայումը բնորոշ է միայն բարեխառն գոտուն:
- 4) Թթվային անձրևների առաջացման միակ պատճառն Արեգակի ուլտրամանուշակագույն ճառագայթներն են

55

**Ո՞ր պնդումն է սխալ.**

- 1) Հատուկ պահպանության տարածքներ են բնության հուշարձանները:
- 2) Անտառային տարածքների կրճատման հետևանք է կլիմայի տաքացումը:
- 3) Մանդառության շղթայի օղակներն են պրոդուցենտները, ռեդուցենտները և կոնսումենտները:
- 4) Հողերի էրոզիայի դեմ պայքարի միջոց է ոռոգումը:

56

**Գրել այն հրաբուխների համարները, որոնք Եվրասիայում են.**

- |             |              |
|-------------|--------------|
| 1) Կամերուն | 5) Ֆուձիյամա |
| 2) Դեմավենդ | 6) Կրակատաու |
| 3) Կոտոպախի | 7) Ռուխ      |
| 4) Հեկլա    | 8) Էրերուս   |

57

**Գրել այն սարքերի համարները, որոնցով չափում են մթնոլորտային երևույթներ.**

- |                |                |
|----------------|----------------|
| 1) բարոմետր    | 5) պալետկա     |
| 2) կուրվիմետր  | 6) էխոլոտ      |
| 3) ֆյուգեր     | 7) կողմնացույց |
| 4) սելսանոգրաֆ | 8) անեմոմետր   |

58

**Տրված են ծովային տաք հոսանքներ: Գրել Հնդկական օվկիանոսի ծովային հոսանքների համարները.**

- |                    |                      |
|--------------------|----------------------|
| 1) Մուսսոնային     | 5) Գվինեական         |
| 2) Բրազիլական      | 6) Գոլֆստրիմ         |
| 3) Գվինական        | 7) Արևելաավստրալական |
| 4) Ասեդի հրվանդանի | 8) Մոզամբիկի         |

59

**Գրել Ճապոնական կղզեխմբի կղզիների համարները.**

- |                   |             |
|-------------------|-------------|
| 1) Կուրա          | 5) Հոնսյու  |
| 2) Ճամայկա        | 6) Սիկոկու  |
| 3) Նյուֆաունդլենդ | 7) Կյուսյու |
| 4) Հոկայդո        | 8) Սախալին  |

60

**Գրել այն երկրների համարները, որոնք ԽՍՀՄ-ի կազմում չեն եղել.**

- |              |              |
|--------------|--------------|
| 1) Սլովենիա  | 5) Տաջիկստան |
| 2) Վրաստան   | 6) Էստոնիա   |
| 3) Բուլղարիա | 7) Սլովակիա  |
| 4) Մոլդովա   | 8) Լատվիա    |

61

**Գրել Կուրի ավազանին պատկանող վտակների համարները.**

- 1) Արփա
- 2) Գետիկ
- 3) Որոտան
- 4) Մարմարիկ
- 5) Դեբեդ
- 6) Հրագդան
- 7) Խաչենազետ
- 8) Փամբակ

**62** ՀՀ տրված ջրամբարների համարները դասավորել դրանց ջրի ծավալների աճման կարգով.

1. Կեչուտի                      2. Ախուրյանի 3.                      Սպանդարյանի

**63** Տրված են երկրագնդի ներքին կառուցվածքի մասերը: Վերադասավորել տրված հաջորդականությունը՝ սկսած ամենաստորին շերտից.

1. երկրակեղև    2. միջուկ                      3. ասթենոսֆերա                      4. միջնապատյան

**64** Քելվին քաղաքի (Հարավաֆրիկյան Հանրապետություն) միջին ամսական ջերմաստիճանների աղյուսակն է.

Միջին ամսական ջերմաստիճանը (°C)											
հունվ.	փետ.	մարտ	ապր.	մայ.	հուն.	հուլ.	օգ.	սեպտ	հոկտ	նոյ.	դեկտ
21,2	21,5	20,3	17,5	15,1	13,3	12,5	13,2	14,5	16,3	18,3	20,3

Որոշել Քելվին քաղաքի ամառային միջին ջերմաստիճանը:

**65** Լեռան ստորոտին մթնոլորտային ճնշումը 580 մմ է, իսկ գագաթին՝ 230: Որոշել Լեռան բացարձակ բարձրությունը:

(66-67) Պետության բնակչության թիվը 50 մլն է: Գյուղաբնակների բացարձակ թիվը 12 մլն մարդ է, իսկ տարածքի մակերեսը՝ 100 000 կմ<sup>2</sup>:

66 Որոշել բնակչության միջին խտությունը:

67 Որոշել ուրբանիզացման մակարդակը:

68 Որոշել ցորենի ցանքատարածությունների մակերեսը(հա), եթե ցորենի համախառն բերքը 34000 տ է, իսկ միջին բերքատվությունը՝ 30 ց/հա:

69

**Ճապոնիայի վերաբերյալ տրված պնդումներից որո՞նք են ճիշտ, որո՞նք՝ սխալ.**

- 1) Ավտոճանապարհային ցանցի համար բնորոշ են արագընթաց լայնահուն մայրուղիները:
- 2) Բեռնաշրջանառության մեջ մեծ է գետային տրանսպորտի բաժինը:
- 3) Արտահանման մեջ գերակշռում են մեքենաներն ու սարքավորումները:
- 4) Տնտեսության զարգացման մակարդակով առաջինն է Արևելյան Ասիայում:
- 5) Թույլ է ապահովված հումքի և վառելիքի սեփական պաշարներով:
- 6) Արդյունաբերության առաջատար ճյուղը թեթև արդյունաբերությունն է:

70

**ՀՀ անասնապահության վերաբերյալ տրված պնդումներից որո՞նք են ճիշտ, որո՞նք՝ սխալ.**

- 1) Խոշոր եղջերավոր անասնաբուծությունը մյուս ճյուղերի համեմատ խիստ անհամաչափ է տեղաբաշխված:
- 2) Անասնապահության համախառն արտադրանքի մեծ մասը բաժին է ընկնում մանր եղջերավոր անասնապահությանը:
- 3) Խոզաբուծությունն առավել զարգացած է Գեղարքունիքի և Շիրակի մարզերում:
- 4) Թռչնաբուծական ֆաբրիկաներն առավելապես տեղաբաշխված են խոշոր քաղաքների կամ արդյունաբերական կենտրոնների մոտակայքում:
- 5) Ոչխարաբուծությունն առավել զարգացած է նախալեռնային և լեռնային շրջաններում:
- 6) Արոտավայրերի գերբեռնվածությունը և գերարածեցումը բնապահպանական հիմնախնդիրներ են առաջացնում: